
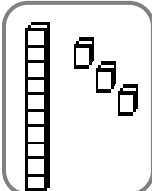
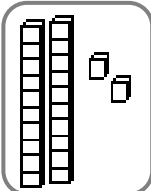
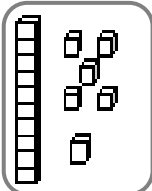
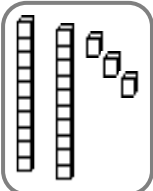
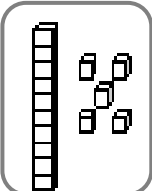
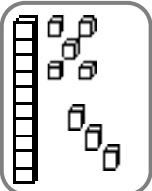
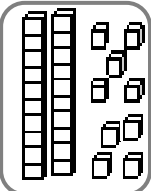
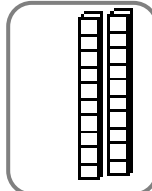


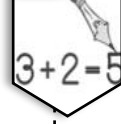
**1 Colorie les nombres identiques de la même couleur :**



**13**   **29**   **20**   **23**   **22**   **15**   **18**   **24**   **16**

**2 Complète les additions :**



 $3 + 2 = 5$


$10 + 6 = \underline{\quad}$	$20 + 2 = \underline{\quad}$	$10 + 3 = \underline{\quad}$
$20 + 1 = \underline{\quad}$	$20 + 9 = \underline{\quad}$	$20 + \underline{\quad} = 24$
$20 + 4 = \underline{\quad}$	$10 + 8 = \underline{\quad}$	$10 + \underline{\quad} = 17$
$10 + 9 = \underline{\quad}$	$20 + 3 = \underline{\quad}$	$20 + 5 = \underline{\quad}$

**3 Ecris le bon signe :** < >



18 <span style="background-color: #ccc; padding: 2px 10px;"> </span> 12	21 <span style="background-color: #ccc; padding: 2px 10px;"> </span> 11	15 <span style="background-color: #ccc; padding: 2px 10px;"> </span> 25	27 <span style="background-color: #ccc; padding: 2px 10px;"> </span> 28
28 <span style="background-color: #ccc; padding: 2px 10px;"> </span> 15	7 <span style="background-color: #ccc; padding: 2px 10px;"> </span> 12	24 <span style="background-color: #ccc; padding: 2px 10px;"> </span> 20	12 <span style="background-color: #ccc; padding: 2px 10px;"> </span> 21

**4 Colorie et relie les bonnes étiquettes pour écrire les nombres :**



<div style="border: 1px solid black; padding: 5px; width: 40px; margin: 0 auto;">17</div> <div style="display: flex; justify-content: space-around; margin-top: 10px;"> <div style="border: 1px solid black; padding: 5px; width: 40px; height: 20px;">dix</div> <div style="border: 1px solid black; padding: 5px; width: 40px; height: 20px;">onze</div> </div> <div style="display: flex; justify-content: space-around; margin-top: 10px;"> <div style="border: 1px solid black; padding: 5px; width: 40px; height: 20px;">vingt</div> <div style="border: 1px solid black; padding: 5px; width: 40px; height: 20px;">sept</div> </div>	<div style="border: 1px solid black; padding: 5px; width: 40px; margin: 0 auto;">28</div> <div style="display: flex; justify-content: space-around; margin-top: 10px;"> <div style="border: 1px solid black; padding: 5px; width: 40px; height: 20px;">deux</div> <div style="border: 1px solid black; padding: 5px; width: 40px; height: 20px;">huit</div> </div> <div style="display: flex; justify-content: space-around; margin-top: 10px;"> <div style="border: 1px solid black; padding: 5px; width: 40px; height: 20px;">vingt</div> <div style="border: 1px solid black; padding: 5px; width: 40px; height: 20px;">dix</div> </div> <div style="display: flex; justify-content: space-around; margin-top: 10px;"> <div style="border: 1px solid black; padding: 5px; width: 40px; height: 20px;">douze</div> <div style="border: 1px solid black; padding: 5px; width: 40px; height: 20px;">seize</div> </div>	<div style="border: 1px solid black; padding: 5px; width: 40px; margin: 0 auto;">15</div> <div style="display: flex; justify-content: space-around; margin-top: 10px;"> <div style="border: 1px solid black; padding: 5px; width: 40px; height: 20px;">dix</div> <div style="border: 1px solid black; padding: 5px; width: 40px; height: 20px;">vingt</div> </div> <div style="display: flex; justify-content: space-around; margin-top: 10px;"> <div style="border: 1px solid black; padding: 5px; width: 40px; height: 20px;">quinze</div> <div style="border: 1px solid black; padding: 5px; width: 40px; height: 20px;">cinq</div> </div>	<div style="border: 1px solid black; padding: 5px; width: 40px; margin: 0 auto;">12</div> <div style="display: flex; justify-content: space-around; margin-top: 10px;"> <div style="border: 1px solid black; padding: 5px; width: 40px; height: 20px;">vingt</div> <div style="border: 1px solid black; padding: 5px; width: 40px; height: 20px;">neuf</div> </div> <div style="display: flex; justify-content: space-around; margin-top: 10px;"> <div style="border: 1px solid black; padding: 5px; width: 40px; height: 20px;">douze</div> <div style="border: 1px solid black; padding: 5px; width: 40px; height: 20px;">dix</div> </div> <div style="display: flex; justify-content: space-around; margin-top: 10px;"> <div style="border: 1px solid black; padding: 5px; width: 40px; height: 20px;">deux</div> <div style="border: 1px solid black; padding: 5px; width: 40px; height: 20px;">dix</div> </div>
---	--	---	--



lundi mardi mercredi jeudi vendredi samedi dimanche



/

/

1 Écris les nombres en chiffres ou en lettres :



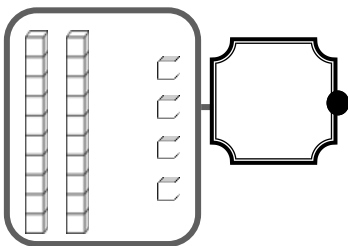
24

vingt-sept

treize

29

2 Compte, complète l'étiquette et relie :



vingt-quatre

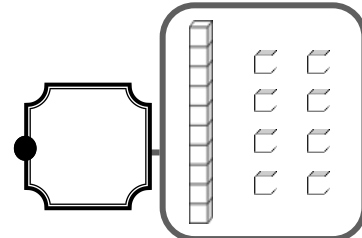
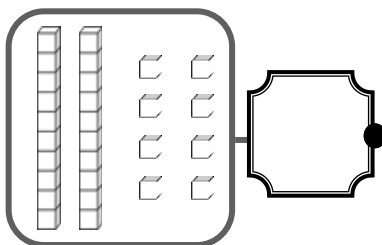
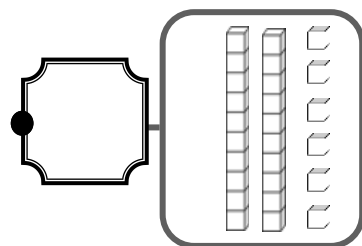
quatorze

dix-huit

vingt-six

vingt-huit

trente-six



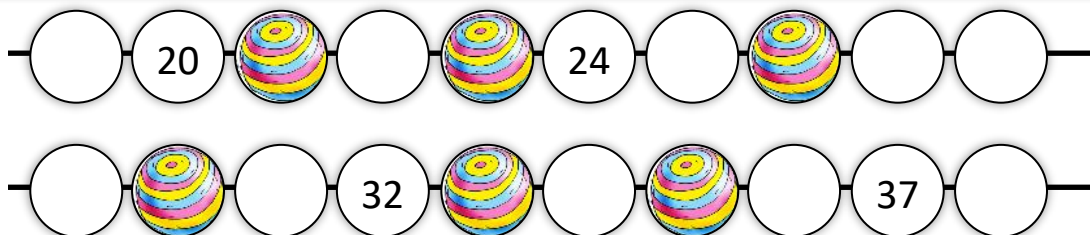
3 Range les nombres dans l'ordre décroissant : 14 22 10 26 8



Five empty boxes connected by horizontal lines for ordering numbers.



4 Complète les perles blanches des colliers des nombres :





lundi mardi mercredi jeudi vendredi samedi dimanche



/ /

**1** Colorie les nombres identiques de la même couleur :



vingt-cinq

trente-quatre

trente-neuf

trente-six

trente et un

trente-cinq

vingt-huit

36

25

39

28

35

34

31

43

$30+1$

$30+5$

$20+5$

$20+8$

$30+6$

$30+9$

$30+4$

**2** Complète les additions :



$20 + 6 = \underline{\quad}$

$2 + 20 = \underline{\quad}$

$10 + 4 = \underline{\quad}$

$20 + 3 = \underline{\quad}$

$4 + 20 = \underline{\quad}$

$20 + \underline{\quad} = 27$

$30 + 6 = \underline{\quad}$

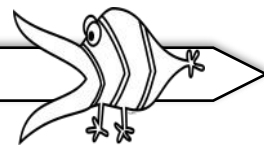
$30 + 4 = \underline{\quad}$

$10 + \underline{\quad} = 15$

**3** Ecris le bon signe :

<

>



17  32

21  30

32  23

29  31

25  27

14  24

34  30

12  13

**4** Relie les étiquettes dans l'ordre des nombres :



Box 1: 25 (shaded), 27, 28, 26, 29, 30, 31. A line connects 25 to 26.

Box 2: 30, 32, 31, 35, 29 (shaded), 34, 33. A line connects 30 to 29.

**1** Complète en chiffres :  **2** Complète avec les bons nombres

*petit*

	trente-quatre
	vingt-neuf
	dix-sept
	trente et un

*petit*

	31	32	33
	19		26
	30		20
	7		29



**3** Compte de 2 en 2 et complète. Utilise la bande numérique : 

*petit*






10	12	14				22			
----	----	----	--	--	--	----	--	--	--

**4** Range les nombres dans l'ordre décroissant : **24 34 17 9 29**





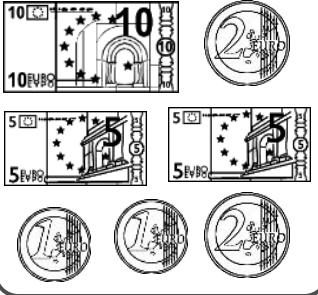
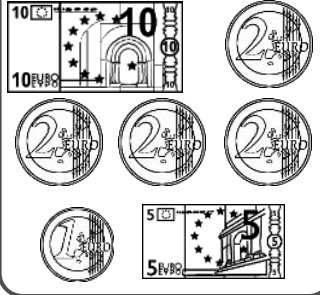
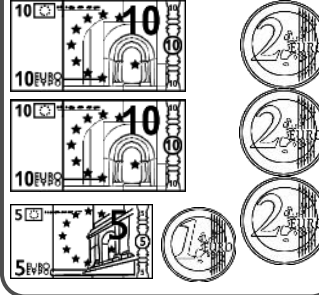
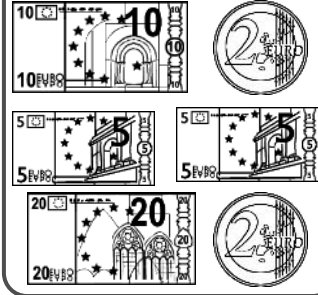
*petit*



**5** Colorie les nombres identiques de la même couleur : 

 gris 23	quatorze	20 + 3	10 + 10 + 4
 jaune 14	trente-trois	10 + 4	10 + 10 + 3
 vert 16	vingt-quatre	20 + 4	7 + 7
 bleu 33	vingt-trois	10 + 6	10+10+10+3
 rouge 24	seize	30 + 3	8 + 8

**1 Colorie ce dont tu as besoin pour acheter chaque objet.**

 <div style="border: 1px solid black; padding: 5px; display: inline-block;">13</div>	 <div style="border: 1px solid black; padding: 5px; display: inline-block;">18</div>	 <div style="border: 1px solid black; padding: 5px; display: inline-block;">21</div>	 <div style="border: 1px solid black; padding: 5px; display: inline-block;">34 €</div>
			


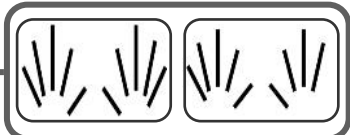
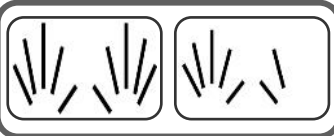

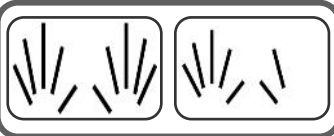

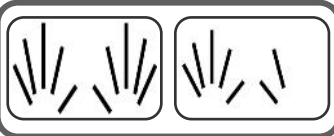

**2 Écris 2 nombres à 2 chiffres avec ces trois étiquettes, en chiffres et en lettres.**

24	$20 + 4$	vingt-quatre
4		
3		
2		

**3 Écris le nombre qui convient dans les cases de ces bandes numériques.**

10							28
	31				43		

**4 Colorie et relie les bonnes étiquettes pour écrire les nombres :**

 <div style="border: 1px solid black; padding: 5px; display: inline-block;">14</div>	onze	
 <div style="border: 1px solid black; padding: 5px; display: inline-block;">.....</div>	dix-neuf	
 <div style="border: 1px solid black; padding: 5px; display: inline-block;">.....</div>	dix-sept	
 <div style="border: 1px solid black; padding: 5px; display: inline-block;">.....</div>	quatorze	



lundi mardi mercredi jeudi vendredi samedi dimanche



/ /

**1** Colorie les nombres identiques de la même couleur :



quarante-trois

trente-trois

quarante-huit

vingt-six

trente-et-un

quarante-cinq

36

48

38

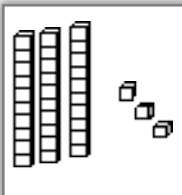
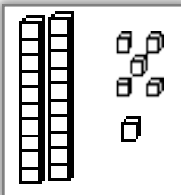
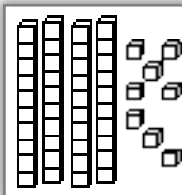
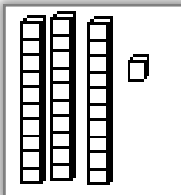
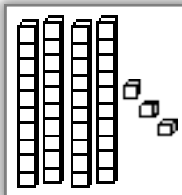
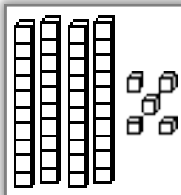
33

45

26

31

43



**2** Complète les additions :

$3+2=5$

$30 + 6 = \underline{\quad}$

$2 + 30 = \underline{\quad}$

$10 + 8 = \underline{\quad}$

$20 + 5 = \underline{\quad}$

$7 + 20 = \underline{\quad}$

$20 + \underline{\quad} = 23$

$30 + 4 = \underline{\quad}$

$30 + 8 = \underline{\quad}$

$10 + \underline{\quad} = 12$

**3** Ecris le bon signe :

<

>

33  32

21  35

36  26

24  32

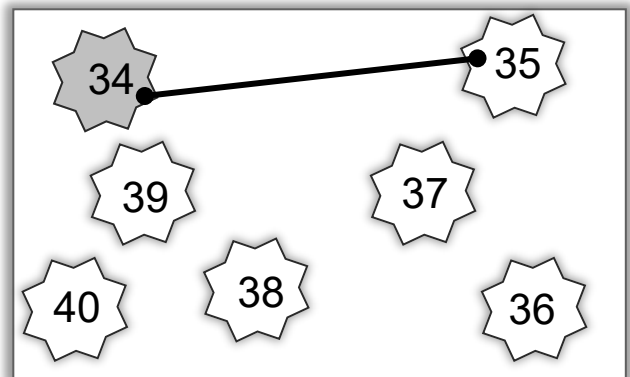
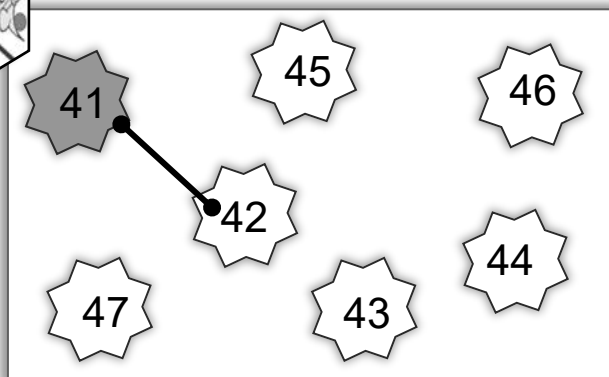
25  19

19  22

14  30

32  23

**4** Relie les étiquettes dans l'ordre des nombres :






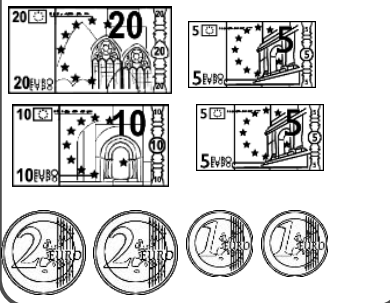
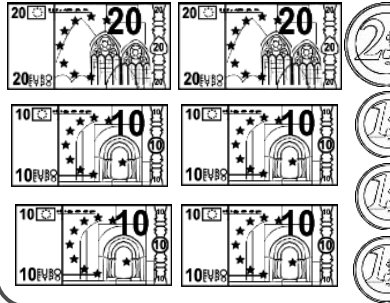
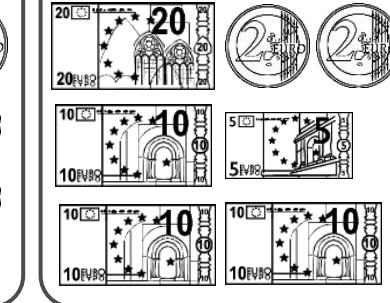
**1** Colorie les nombres identiques de la même couleur :

trente-huit    vingt-quatre    quarante-six    cinquante-six    quarante-huit    cinquante-neuf

56    39    48    59    38    46    24    32

40 + 8    40 + 6    50 + 6    30 + 8    50 + 9    20 + 4

**2** Colorie ce dont tu as besoin pour acheter chaque objet.

 <b>26 €</b>	 <b>43 €</b>	 <b>39 €</b>
		

**3** Écris le bon signe : < >

$3 + 2 = 5$	43 <input type="checkbox"/> 25	41 <input type="checkbox"/> 14	36 <input type="checkbox"/> 46	24 <input type="checkbox"/> 52
	25 <input type="checkbox"/> 59	50 <input type="checkbox"/> 49	54 <input type="checkbox"/> 44	48 <input type="checkbox"/> 45

**4** Écris le nombre qui convient dans les cases de la bande numérique.



lundi mardi mercredi jeudi vendredi samedi dimanche



/ /

**1** Complète en chiffres :



	quarante-quatre
	cinquante-six
	quarante et un
	quarante-neuf

**2** Complète avec les bons nombres



31	32	33
----	----	----

	39			56	
	42			40	
	52			29	

**3** Compte de 2 en 2 et complète. Utilise la bande numérique :



32	34	36				44			
----	----	----	--	--	--	----	--	--	--

**4** Range les nombres dans l'ordre décroissant

44 39 28 47 58



--	--	--	--	--



**5** Colorie les nombres identiques de la même couleur :



- gris 36
- jaune 25
- vert 43
- bleu 46
- rouge 53

quarante-six	$50 + 3$	$10+10+10+10+10+3$
trente-six	$20 + 5$	$10+10+10+10+6$
vingt-cinq	$30 + 6$	$10+10+10+10+3$
cinquante-trois	$40 + 6$	$10+10+10+6$
quarante-trois	$40 + 3$	$10+10+5$







lundi mardi mercredi jeudi vendredi samedi dimanche



/ /

1 Colorie les nombres identiques de la même couleur :



quarante-huit

soixante-deux

cinquante-trois

trente-cinq

soixante-cinq

cinquante-six

56

65

26

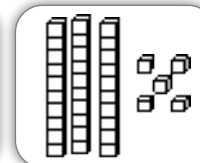
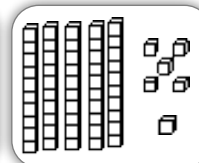
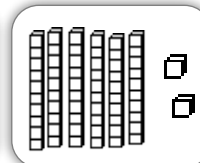
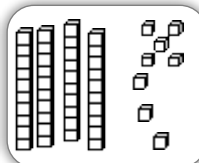
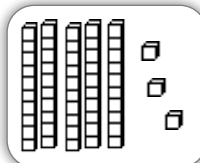
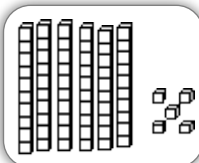
35

59

53

62

48



2 Range dans l'ordre croissant :

63

51

48

69

56

78

45



Seven empty boxes for ordering numbers.



3 Ecris les nombres à leur place.

57

53

55

48

60

A zigzag path of diamond-shaped boxes for number placement. The number 51 is in the second diamond from the left, and 58 is in the second diamond from the right.

4 Compte de 10 en 10 et complète. Utilise la bande numérique :



A number line with boxes containing 3, 13, 23, an empty box, another empty box, a third empty box, 63, a fourth empty box, a fifth empty box, and a sixth empty box.



lundi mardi mercredi jeudi vendredi samedi dimanche



/ /

1 Complète les cases bordées de noir, et place les nombres au bon endroit.



	1	2		4				
					16			
		22						29
					45		48	49
	51							
			63					69
70		72				76		
			83			86	88	
	91							

19

73

66

52

40

47

95

2 Relie l'étiquette au bon endroit.



50

62

48

71

54

56

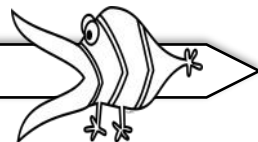
68

3 Ecris le bon signe :

<

>

=



3+2=5

43

40+3

50+6

65

20+9

27+1

50+5

59

79

70+9

60+4

63+1



lundi mardi mercredi jeudi vendredi samedi dimanche



/ /

1 Complète chaque case en suivant ce que t'indique la flèche.

12  $\xrightarrow{+10}$    $\xrightarrow{+1}$    $\xrightarrow{+10}$    $\xrightarrow{+1}$    $\xrightarrow{+1}$

7  $\xrightarrow{+1}$    $\xrightarrow{+1}$    $\xrightarrow{+1}$    $\xrightarrow{+10}$    $\xrightarrow{+10}$

21  $\xrightarrow{+1}$    $\xrightarrow{+10}$    $\xrightarrow{+10}$    $\xrightarrow{+10}$    $\xrightarrow{+1}$

2 Complète en comptant de 10 en 10



2 12 22    62

7 17 27

3 Complète en indiquant le nombre avant et après :

24	<input type="text"/>	<input type="text"/>	<input type="text"/>	<input type="text"/>	<input type="text"/>
25	59	30	49	29	50
26	<input type="text"/>	<input type="text"/>	<input type="text"/>	<input type="text"/>	<input type="text"/>

4 Écris les nombres à leur place.

35 45 18 49 22

9   25   48



**1** Colorie et relie les bonnes étiquettes pour écrire les nombres :



69

neuf cinquante  
vingt soixante

43

treize trois  
quarante dix  
douze

69

neuf trente  
sept quinze  
soixante

51

et soixante  
onze un  
cinquante

37

trente six  
seize dix  
sept

41

vingt quarante  
un  
et dix

**2** Complète en comptant de 5 en 5 :



22 27 32 [ ] [ ] [ ] 52 [ ] [ ] [ ]

**3** Colorie ce dont tu as besoin pour acheter chaque objet.



54 €



40 €



55 €

20€ 20€ 10€ 5€ 2€

20€ 20€ 10€ 10€ 10€ 10€ 2€

20€ 50€ 20€ 10€ 5€ 10€ 10€ 2€



lundi mardi mercredi jeudi vendredi samedi dimanche



/ /

**1** Colorie les nombres identiques de la même couleur :



soixante-trois

soixante-quatorze

soixante et onze

soixante-treize

soixante-dix-huit

soixante-quatre

74

73

78

63

68

64

71

$60 + 18$

$60 + 11$

$60 + 3$

$60 + 1$

$60 + 4$

$60 + 13$

$60 + 14$

**2** Complète ces additions.



$60 + 16 = 76$

$70 + 6 = 76$



$60 + 14 = \dots$

$70 + 4 = \dots$

$60 + 12 = \dots$

$70 + 2 = \dots$

$60 + 11 = \dots$

$70 + 1 = \dots$

$60 + 18 = \dots$

$70 + 8 = \dots$

$60 + 15 = \dots$

$70 + 5 = \dots$

**3** Relie ce qui va ensemble.



soixante-treize .

soixante-quinze .

soixante-seize .

soixante-dix-huit .

soixante-douze .



.  $60 + 15$

.  $60 + 18$

.  $60 + 13$

.  $60 + 12$

.  $60 + 16$



$60 + 10$  .

$60 + 15$  .

$60 + 14$  .

$60 + 13$  .

$60 + 18$  .



. 74

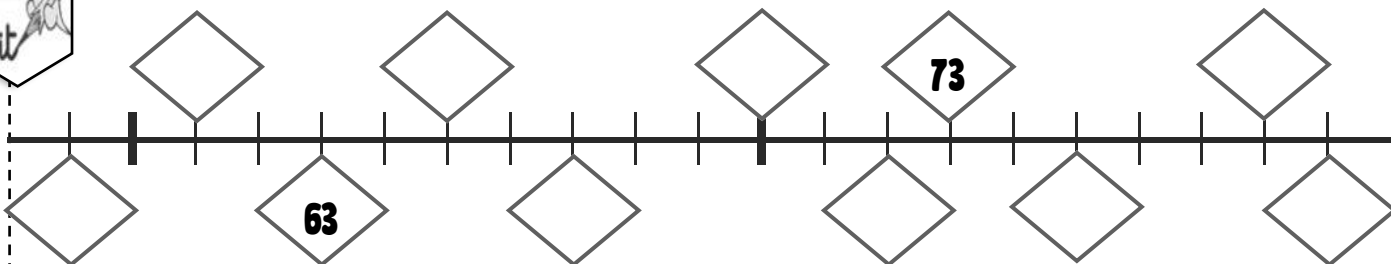
. 70

. 78

. 75

. 73

**4** Écris le nombre qui convient dans les cases de la bande numérique.





lundi mardi mercredi jeudi vendredi samedi dimanche



/ /

**1** Complète chaque case en suivant ce que t'indique la flèche.

27  $+10$   $+1$   $+10$   $+1$   $+10$   $+1$

18  $+1$   $+1$   $+1$   $+10$   $+10$

34  $+1$   $+10$   $+10$   $+10$   $+1$

**2** Complète en comptant de 2 en 2



32 34 36    44

25 27 29

**3** Écris les nombres à leur place. 51 40 68 47 29

24   42   59

**4** Colorie de la même couleur les cases qui représentent le même nombre

rouge 72    jaune 62    bleu 65    vert 75    gris 70

$52 + 10$	$60 + 15$	$60 + 10$	$60 + 12$	$62 + 3$
$70 + 5$	$60 + 5$	$70 + 2$	$70 + 0$	$60 + 2$
soixante-cinq	soixante-douze	soixante-dix	soixante-deux	soixante-quinze

lundi mardi mercredi jeudi vendredi samedi dimanche

1 Colorie les nombres identiques de la même couleur :



gris 64

soixante-quatorze

$60 + 8$

$60 + 14$

jaune 78

soixante-dix-huit

$70 + 8$

$60 + 11$

vert 71

soixante-quatre

$70 + 1$

$67 + 1$

bleu 74

soixante-et-onze

$60 + 4$

$60 + 18$

rouge 68

soixante-huit

$70 + 4$

$62 + 2$

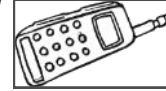
2 Colorie ce dont tu as besoin pour acheter chaque objet.




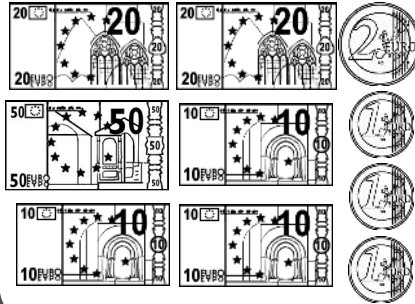

63 €



70 €



78 €



3 Écris 2 nombres différents avec les étiquettes, en respectant le modèle.



46

$40 + 6$

quarante-six

7

6

4



lundi mardi mercredi jeudi vendredi samedi dimanche

1 Colorie les nombres identiques de la même couleur :

quatre-vingt-cinq

quatre-vingt-quinze

quatre-vingt-douze

quatre-vingt-deux

quatre-vingt-dix-huit

quatre-vingt-dix

92

90

98

85

42

95

82

$80 + 10$

$90 + 8$

$80 + 2$

$90 + 2$

$80 + 15$

$80 + 18$

$80 + 5$

2 Écris le nombre qui convient dans les cases de la bande numérique.

62

73

3 Colorie les nombres identiques de la même couleur :

gris

88

quatre-vingt-trois

$80 + 8$

$20+20+20+20+3$

jaune

43

vingt-sept

$40 + 3$

$10+10+7$

vert

83

quatre-vingt-huit

$20 + 7$

$40+40+7$

bleu

27

quarante-trois

$80 + 3$

$10+10+10+10+3$

rouge

87

quatre-vingt-sept

$80 + 7$

$10+10+10+10+10+10+10+10+8$

4 Complète chaque case en suivant ce que t'indique la flèche.

39

+10

+1

+10

+1

58

+1

+1

+1

+10

lundi mardi mercredi jeudi vendredi samedi dimanche



/ /

1 Écris 2 nombres différents avec les étiquettes, en respectant le modèle.



57	50 + 7	cinquante-sept

petit

- 7
- 8
- 5

2 Colorie ce dont tu as besoin pour acheter chaque objet.



78 €	93 €	81 €

3 Écris les nombres à leur place. 72 89 69 78 80

petit

63			75			88	
----	--	--	----	--	--	----	--

4 Complète chaque case en suivant ce que t'indique la flèche.

petit

□	← -1	□	← -10	65	→ +10	□	→ +10	□
□	← -10	□	← -10	59	→ +10	□	→ +1	□

lundi mardi mercredi jeudi vendredi samedi dimanche



/ /

3 Colorie les nombres identiques de la même couleur :



gris 95	quatre-vingt-dix-sept	$80 + 2$	$80 + 12$
jaune 87	quatre-vingt-quinze	$90 + 5$	$80 + 17$
vert 82	quatre-vingt-sept	$80 + 7$	$80 + 2$
bleu 97	quatre-vingt douze	$90 + 2$	$80 + 15$
rouge 92	quatre-vingt-deux	$90 + 7$	$80 + 7$

2 Relie ce qui va ensemble.



quatre-vingt-six .	.80+19	$80 + 10 .$	.99	
quatre-vingt-treize .	.80 + 6	$80 + 12 .$	.93	
quatre-vingt-seize .	.80+13	$80 + 15 .$	.95	
quatre-vingt-dix-neuf .	.80+3	$80 + 13 .$	.92	
quatre-vingt-trois .	.80+16	$80 + 19 .$	.90	

3 Relie l'étiquette au bon endroit.

90      92      78      100      88

82      96